


◎歷史科

李鴻章:「西方之所以強盛，是因為他們快速的輪船、電報、輕巧的軍械，以及無堅不摧的砲彈」



梁啟超:「變法的根本在於培育人才」

科舉之制不改，便缺乏才學;師範學堂不立，便無適切的教師;專門學問不加區分，便不能專精，這三者是中國的病根。



福澤諭吉:「環顧世界各國，歐美列強因為文明開化，成為富強的國家。亞非國家因為蒙昧沒有開化，是貧弱國家」



請回答 1—5 題

1. 請根據上述資料，判斷李鴻章應該會贊成何種言論?(A)立國之道尚禮義不尚計謀，根本之圖在人心不在技藝 (B)能變則全，不變則亡；全變則強，小變仍亡 (C)師夷長技以制夷 (D)驅除韃虜恢復中華。
2. 李鴻章所支持的改革起於戰爭也結束於戰爭，請於選項中選出適切的答案？(A)鴉片戰爭 英法聯軍 (B)英法聯軍 中法戰爭 (C)英法聯軍 甲午戰爭 (D)甲午戰爭 八國聯軍。
3. 蔣夢麟在《西湖》中提到：「……李鴻章看到西方文明醜惡猙獰的一面，因而決定建立海軍，以魔鬼之矛攻魔鬼之盾。光緒帝看到西方文明光明和善的一面，因此想建立新式的學校制度。」請問光緒皇帝所推動的改革受到什麼戰役的刺激；終結於何事?(A)鴉片戰爭、英法聯軍 (B)英法聯軍、甲午戰爭 (C)甲午戰爭、戊戌政變 (D)戊戌政變、革命運動。
4. 以下為清末的一份聲明：「此事件後，我們聽到政府與某國談判求和，不但讓朝鮮獨立，還要開放更多的口岸，任由外國在中國內陸設置工廠。我們要求拒和、遷都、變法」關於這份聲明，下列敘述何者有誤？(A)聲明者為上列的梁啟超 (B)這份聲明為公車上書 (C)談判求和所簽訂的是馬關條約 (D)某國為英國。
5. 福澤諭吉身為日本 19 世紀末的新知識分子，他鼓吹維新政策，他寫過一篇《脫亞論》，認為日本應該選離亞洲惡鄰，才能加入列強行列。請問：福澤諭吉的論點後來成為哪一個改革的推力之一？(A)明治維新 (B)大化革新 (C)自強運動 (D)百日維新。
6. 19 世紀中葉，清代魏源著有《海國圖志》一書，其內容敘述世界各國的地理歷史政治。魏源主張中國應「睜眼看世界」，學習外國先進技術以戰勝列強。上述學者的主張最可能落實於下列哪一個改革或行動？(A)李鴻章等人推動自強運動，因應西力的衝擊 (B)梁啟超等人發起戊戌變法 (C)孫中山成立興中會，希望透過革命推翻滿清 (D)清廷下詔宣布立憲並成立責任內閣。
7. 中日兩國都曾經閉關自守—「鎖國」過，後來也都因著列強武力的威脅和侵逼而被迫開港通商。請問：關於中日的歷史，何者敘述錯誤？(A)兩國都曾採取限制通商，中國在廣州;日本在長崎 (B)兩國的改革運動皆由中央政府統一規劃，皇帝親自主持 (C)英國首先打開中國的門戶，而美國首先打開日本的門戶 (D)中國因鴉片戰爭被迫開港通商;日本因黑船事件被迫開港通商。
8. 將日本的「明治維新」與中國的「自強運動」相提並論，這是因為兩者間有一些共同的特徵所致。下列那項敘述是兩者共同的特徵？(A)兩者所從事的諸項改革，均由中央政府統一規

劃，並付諸實行 (B)兩者改革的結果，均使國家形成中央集權體制 (C)均建立近代國家的君主立憲政體 (D)兩者目標皆為富國強兵。

9. 「征露丸」是日本人為了打仗而發明的，主要是治療水土不服的疾病。豪豪非常好奇下上網一查才知道，原來這是「日俄戰爭」時的產物。當時人少地小的日本竟然可以打敗人多地廣的俄國，不但引起國際震驚，也促使清朝改革。關於日俄戰爭的敘述，下列何者正確？(A)慈禧太后對日俄宣戰，導致日俄戰爭 (B)促成清朝最終實施完善的君主立憲體制 (C)促成興中會的成立 (D)日本勢力進入中國東北。
10. 清末戰爭中，首都北京曾兩次被列強攻陷，除了中國珍寶慘遭掠奪，更重創了民族自信心，請問這兩次戰爭分別是？(A)鴉片戰爭、英法聯軍 (B)鴉片戰爭、八國聯軍 (C)甲午戰爭、八國聯軍 (D)英法聯軍、八國聯軍。
11. 請以電視劇<人間四月天>為例，探討清末民初社會風氣的轉變，下面何者敘述錯誤？(A)徐志摩與元配張幼儀結合，代表著當時傳統「父母之命、媒妁之言」的婚姻依然存在 (B)徐志摩和陸小曼相識於上海的娛樂場所 (C)張幼儀離婚後留在國外念書接受新式教育，回來後出任上海女子商業銀行副總裁，說明當時社會已逐漸打破「女子無才便是德」的傳統觀念 (D)徐志摩一生摯愛林徽音，婚前婚後皆不用外出工作，代表婦女的地位提升。
12. 大紀元 2011-04-24 的報導中提到：「1908 年 1 月，美國國會通過決議，決定把「拳亂賠款」從當時的 2400 多萬美元減少為 1300 多萬美元，餘額退還中國，並作為教育基金，創辦了清華大學的前身「清華園」。庚款的運用，為北京清華奠基；兩岸清華分治後，新竹清華也受惠於這筆基金。校長陳力俊證實，清大每年依然收到來自百年前庚款的支票。外界常誤以為清華基金是兩岸清華各取一半，但他證實這筆基金僅撥給新竹清華。」上述報導中提到的「庚款」其實就是指哪個條約的賠款？(A)辛丑和約 (B)天津條約 (C)北京條約 (D)馬關條約
13. 清末有許多戰役皆因藩屬國而起，下列配對何者有誤？(A)中法戰爭---越南 (B)甲午戰爭---朝鮮 (C)鴉片戰爭---香港 (D)牡丹社事件---琉球。
14. 歷史解釋往往會因為立場而有不同，瑞珊在網路上蒐集關於義和團事件與八國聯軍的資料，發現對於義和團有很多不同的形象與評價，整理如右表。請問：對於右表的理解，下列說明何者較不適當？(A)維新派人士怪罪慈禧引發八國聯軍 (B)中共史觀是客觀歷史真相的描述 (C)中共歷史觀點肯定義和團是愛國運動 (D)地方官員怪罪義和團引發八國聯軍。

代表	主張
維新派	指責慈禧是辛丑條約的罪魁禍首。
地方官員	稱之為「拳禍」、「拳亂」。
革命黨人	視為清政府的重大惡政
中共	「與侵略軍進行了殊死的戰鬥」， 「維護國家主權，捍衛民族尊嚴」

15. 下圖是 19 世紀末刊登於法國《小日報》封底的時事漫畫，下列哪一選項的敘述最符合漫畫中所要表達的時事？(A)自強運動期間列強的進逼 (B)甲午戰爭後的瓜分危機 (C)八國聯軍首都淪陷 (D)日俄戰爭後各國相繼爭奪東北權益。
16. 圓明園是中國國務院公布的全國重點文物保護單位，曾經在 19 世紀的一場戰役慘遭焚毀。此場戰役被法國文學家雨果評為「兩個強盜的勝利」，許多珍寶因此付之一炬或是遭搶被劫。請問：雨果所描述的「兩個強盜」指的是誰？(A)美國、英國 (B)英國、法國 (C)法國、德國 (D)德國、俄國。

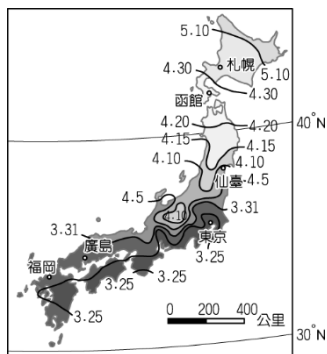


◎地理科

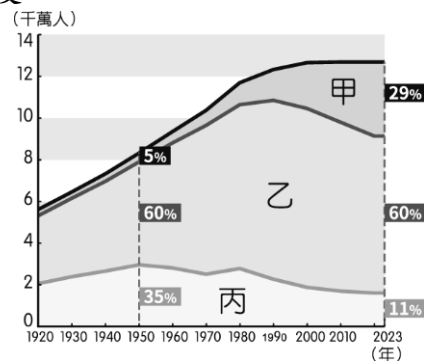
17. 四位兒時同窗好友，長大後各奔東西。根據他們的聊天內容判斷，哪位同學現在最可能住在日本？

- (A) 宗穎：每天都可以看到我心中聖山—富士山不同的風貌  
 (B) 本然：這裡有世界上最好吃的泡菜，下次回臺灣分享給大家  
 (C) 益睿：我住在世界人口最多的國家，交通紊亂，生活素質低  
 (D) 品安：我住的地方很冷，家裡設置「溫突」來禦寒。

18. 【圖一】為日本各地賞櫻日期圖，由圖中資料判斷，賞櫻日期的變化與下列哪一個因素最相關？(A)季風 (B)洋流 (C)緯度 (D)經度。



【圖一】



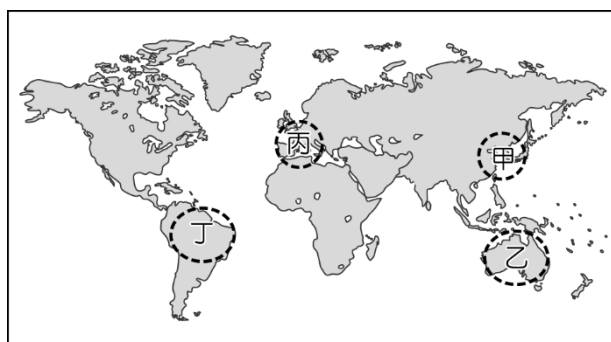
【圖二】

19. 【圖二】為日本人口結構統計圖。受到圖中呈現的趨勢影響，下列哪種商品未來在日本的市場潛力最為廣大？

- (A) 幼兒玩具 (B) 露營用具 (C) 助行輔具 (D) 美容商品。

20. 2024 年全年訪日遊客破 3600 萬人，請問前往日本旅遊的遊客來源以【圖三】中哪一地區為主？

- (A) 甲 (B) 乙 (C) 丙 (D) 丁。



【圖三】



【圖四】

21. 請根據【圖四】的東北亞示意圖，請選出正確的敘述？

- (A) 天津因受海洋影響，降水量較多 (B) 仙台的降水量來源為東北季風  
 (C) 仙台的降水量最少、首爾的最多 (D) 天津的年溫差最大、仙台最小。

22. 朝鮮半島在二戰後分裂為北韓和南韓兩個政體，兩者經濟發展差異大。【表一】為南、北韓的經濟發展差異，其中哪個說明有誤？

	北韓	南韓
(A) 貿易總額	高	低
(B) 礦產資源	豐富	缺乏
(C) 經濟制度	共產主義	資本主義
(D) 氣候條件	較嚴寒	較溫暖

【表一】

國家	第一級產業	第二級產業	第三級產業
寮國	62%	11%	27%
日本	6%	33%	61%
泰國	27%	27%	46%
臺灣	15%	32%	53%

【表二】

23. 【表二】是亞洲國家的產業人口組成一覽表，其中日本的產業結構可以直接顯示出下列何項特色？(A)人口高度集中 (B)經濟高度發展 (C)糧食自給自足 (D)氣候溫和宜人。



24. 今年日本朝日啤酒與韓國女團 BLACKPINK 推出聯名啤酒。南韓蓬勃發展向外輸出的娛樂影視產業屬於第幾級產業？

- (A)一 (B)二 (C)三 (D)以上皆非。

25. 日本與臺灣皆屬地震頻繁的地區，這與何種共同的自然環境特色有關？

- (A)地處板塊接觸的地帶 (B)南北狹長的國土形狀 (C)四面環海，海岸線綿長 (D)屬於季風氣候。

26. 「西元 1281 年 8 月，忽必烈派兵進攻日本，旨在要求日本臣服納貢，日本人奮力抵抗長達 7 週，此時一場神風毀掉半數以上蒙古軍船。」上文中的「神風」最可能為何種氣象災害？

- (A)龍捲風 (B)颱風 (C)暴風雪 (D)沙塵暴。

27. 日本目前對外輸出的產品以具有高附加價值的產品為主。請問：下列何者占日本的出口額比例最小？

- (A)家電 (B)汽車 (C)成衣 (D)資訊產品。

28. 日本憑著創新研發能力與技術優良的勞工，生產高附加價值產品行銷全球，下列哪一個是日本品牌商品？

- (A)三星手機 (B)LV 包包 (C)LG 冰箱 (D)任天堂 SWITCH。

29. 有韓國媒體報導：來自中國的霧霾，折磨著韓國民眾的呼吸器官，預估這種情況今後會更加頻繁。請問：中國的霧霾是橫渡哪一個海域而到達朝鮮半島？

- (A)日本海 (B)南海 (C)北極海 (D)黃海。

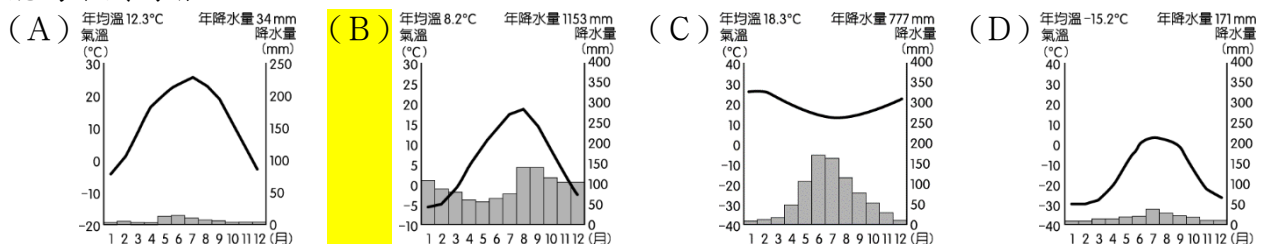
30. 日本能吸引大量國際旅客的主要原因不包括以下哪一項？

- (A)環境宜人、少天災，讓旅客安心出遊 (B)獨特的人文歷史景觀，展現出文化魅力  
(C)治安好與服務貼心，提供舒適旅行體驗 (D)地區限定的特色商品，可增添購物樂趣。

31. 南韓大型財閥的相關企業可說涵蓋人民生活的各個層面，從輕工業、重工業、到高科技等皆可見其身影，許多父母也鼓勵孩子未來要擠進這些大企業的窄門就業。這種財閥獨大的情況，帶給南韓社會何種隱憂？

- (A)人口老化迅速 (B)科技發展停滯 (C)出口產值降低 (D)貧富差距擴大。

32. 日本的東京一帶四季分明，各季節都有特殊的自然景觀吸引遊客前往。請問：當地氣候圖最可能為下列何者？



33. 國民政府接收台灣後，將在台日本人與日籍軍人強制送回日本，數十萬日本人從基隆港搭船北返日本，當時船隻在下列哪一股洋流引領下很快抵達目的地？

- (A)親潮 (B)黑潮 (C)親潮支流 (D)中國沿岸流。

#### ◆公民部分

◎單題：第 34~44 題，每題 2 分，共 22 分

34. 品皓-明年就可以參選新北市市長；品譽-今年剛取得公民投票權的資格；品亮-去年生日時剛好達到公職人員參選年齡的最低資格；品佑-我已經連任 5 屆里長了。試由前述提供的資料將四人依年齡由大到小排序。

- (A)品皓、品譽、品亮、品佑 (B)品佑、品皓、品亮、品譽  
(C)品譽、品佑、品皓、品亮 (D)品亮、品皓、品佑、品譽。
- 35.在民主國家中，何種做法是最常見也是最重要的政治參與方式？  
(A)遊行示威 (B)揭竿起義 (C)彈劾罷免 (D)選舉投票。
- 36.日前台北市捷運站內發生兇嫌丟擲煙霧彈及隨機砍人案件，事發後捷運警察和各轄區警局都加派人力巡邏，並建立防恐、應變與通報機制。前述內容是屬於地方政府的哪項自治工作？ (A)安全衛生 (B)社會福利 (C)經濟發展 (D)教育文化。
- 37.下列四位同學要去辦理的業務，哪個是在『戶政事務所內』可以完成的？  
(A)漢磊-接種流感疫苗 (B)漢棋-辦理在學兵役緩徵申請  
(C)漢良-申請國民身分證 (D)漢翔-考機車駕照。
- 38.以下哪一政府機關與基隆市議會同性質、同等級？  
(A)嘉義縣民代表會 (B)花蓮縣議會  
(C)新竹市政府 (D)台東市公所。
- 39.我國地方政府實施地方自治，只包含哪兩種權力？  
(A)行政權與立法權 (B)立法權與司法權  
(C)司法權與考試權 (D)考試權與監察權。
- 40.下列哪一個縣市會有山地原住民區的區長及區民代表的選舉？  
(A)花蓮縣 (B)台東市 (C)高雄市 (D)屏東縣。
- 41.以下哪一個公所是地方行政機關派出的單位？  
(A)新北市烏來區公所 (B)台北市士林區公所  
(C)苗栗縣苗栗市公所 (D)花蓮縣光復鄉公所。
- 42.『一人一票、票票等值』強調的是哪一項投票的原則？  
(A)普通 (B)平等 (C)直接 (D)無記名。
- 43.下列哪一項不適用於針對『選舉人』資格的規定？  
(A)須具備中華民國的國籍 (B)必須達到法定的選舉年齡  
(C)不可以受到監護宣告 (D)須設籍在選區一定的時間。
- 44.我國的公民投票法是為了落實實施憲法中所保障的哪些參政權？  
(A)創制、複決權 (B)選舉、罷免權 (C)應考試、服公職 (D)訴願、訴訟權。
- 45.在明年的地方選舉中，下列何人最可能具備台北市市長候選人的參選資格？  
(A)今年剛滿 26 歲、甫從美國哈佛大學畢業的研究生  
(B)設籍在台北市 2 年但被褫奪公權的通緝犯  
(C)年滿 40 歲但受監護宣告的失智者  
(D)已任滿一屆欲爭取連任的現任市長。

◎題組：第 46~50 題，每題 2 分，共 10 分

2026 年將迎來四年一度的九合一地方選舉，這場選舉除了是執政黨的期中考，也被視為 2028 年大選的前哨戰，藍綠白陣營早已摩拳擦掌、展開布局。民眾黨不分區「兩年條款」即將到期，8 席立委的名單即將更新，是否影響民眾黨在立院戰力、牽動藍白在立院的合作，也備受外界矚目；朝小野大造成的行政立法衝突，在 2025 年底行政院正式宣布不副署《財劃法》後，進入新的高點。

- 46.設籍在新北市淡水區的公民老師，若皆符合所有選舉人資格，試問在 2026 年的地方性選舉及 2028 年的中央全國性大選中，各能拿到幾張選票？  
(A)前者 9 張、後者 2 張 (B)前者 5 張、後者 2 張  
(C)前者 3 張、後者 2 張 (D)前者 3 張、後者 3 張。
- 47.以濃的姑姑即將再度參選 2025 年的地方公職人員選舉，她已在此崗位上連任多次，希望能繼續深耕鄉里、服務選民。下列哪一公職人員最有可能是以濃姑姑參選的項目？  
(A)立法委員 (B)新北市市長 (C)新北市市議員 (D)淡水區區民代表。
- 48.承 46 題，下列哪一項工作才是以濃姑姑的職權範圍所要完成的？  
(A)審核新北市政府所提之預算 (B)質詢行政院院長及內閣閣員  
(C)完成內政部交辦新市鎮開發計畫 (D)彈劾違法失職的公務人員。
49. 以濃看到選舉公報上特別提醒選民，在投票時一定要記得使用選委會提供的圈選章，不可使用自己的私章，以免成為廢票。若在選票上未使用規定的圈選工具圈選，會違反投票的哪項原則？ (A)普通 (B)平等 (C)直接 (D)無記名。
- 50.下列哪位選民收到的投票通知單上的地址是正確無誤的？  
(A)瑞恩:台北市大安鎮永康街 10 號  
(B)恩睿:新竹縣湖口鄉明德街 296 號  
(C)益睿:花蓮縣壽豐區溪口路 87 號  
(D)晨睿:台中縣南屯區春安路 56 巷 25 號。